

1/ Šitie je tradičný spôsob spájania. Šiť znamená vytvárať, pomocou ihly a nite :

a/ stehy

b/ švy

c/ štepy

a

2/ Šitie vzniká nadväzným opakovaním :

a/ stehov

b/ štepou

c/ švou

a

3/ Základným článkom šitia, ktorý vzniká najmenej dvojnásobným pretiahnutím nite cez šitý materiál

a/ štep

b/ šev

c/ steh

c

4/ Ako sa volá rad navzájom spojených stehov ?

a/ šev

b/ steh

c/ štep

c

5/ Čo sa vytvára pomocou štepov ?

a/ šev

b/ steh

c/ krokvičkový steh

a

6/ Ako sa volá vzdialenosť medzi prepichmi, ktoré ohraničujú steh v smere šitia ?

a/ dĺžka stehu

b/ šírka stehu

c/ výška stehu

a

7/ Ako sa volá kolmá vzdialenosť na dĺžku stehu medzi dvomi prepichmi rozostúpeného stehu ?

a/ dĺžka stehu

b/ šírka stehu

c/ výška stehu

b



8/ Do tabuľky dopíšte číslo z grafických príloh, ktoré označujúce daný steh ?

Krokvičkový steh	Predný steh	Perličkový steh
3	1	2

1

2

3




9/ Do tabuľky dopíšte číslo z grafických príloh, ktoré označujúce daný steh ?

Obnitovací steh	Šikmý steh	Zadný steh
2	3	1

1

2

3



**10/ Kožu šijeme :**

a/ šidlom a tupou ihlou

b/ šidlom

c/ tupou ihlou

a

**11/ Postroje na koňa a iné pevné veci môžeme šiť aj koženými plochými remencami širokými 4 – 6 mm, ktoré sa volajú :**

a/ hladenice

b/ švihle

c/ štepy

b

**12/ Najčastejšie používaným bielkovinovým lepidlom na spájanie jednotlivých častí kože je :**

a/ albumínové

b/ kazeínové

c/ globulínové

b

**13/ Kónské sedlá rozdeľujeme na :**

a/ na anglickej kostre + bezkostrové

b/ na anglickej kostre + kozlíkovej kostre

c/ na anglickej + kozlíkovej kostre + bezkostrové

c

**14/ K sedlám dopíšte o aký typ sedla ide z hľadiska jeho využí**



a/ .....

**dostihové**

b/.....

**dámske**

c/.....

**skokové**

**15/ K sedlám dopíšte o aký typ sedla ide z hľadiska využitia ?**



a/ .....

**westernové**

b/.....

**vojenské**

c/.....

**bezkostrové, španielsky BAREFOOT**

16/ Napište názvy textilných, výstužových, podkladových a vypchávkových materiálov !  
 Podložka Christ Ultra Plstenka pod sedlo



a/.....

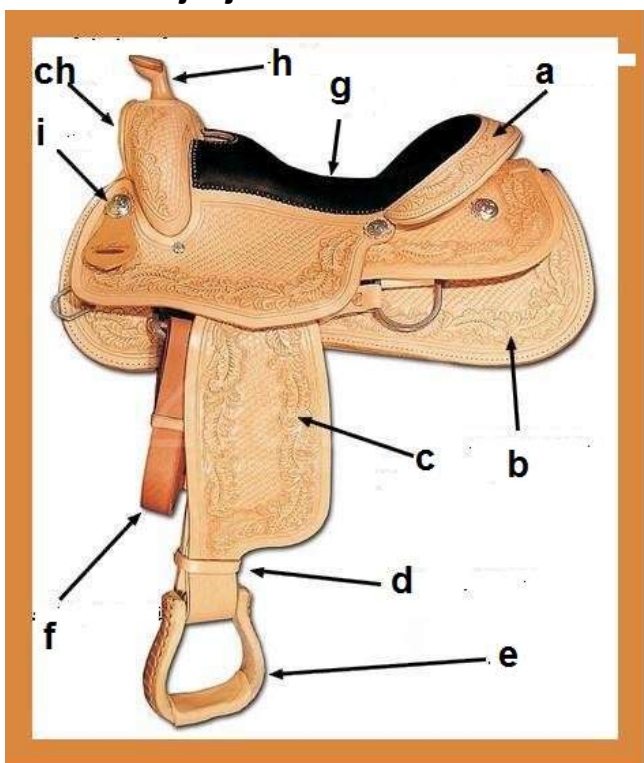
b/.....



c/.....

b/.....

**Gélová podložka** **Výstuž na kostru sedla/(Komora do sediel určená na úpravu šírky komory /**  
**17/ Pomenujte jednotlivé časti westernového sedla !**



OZNAČENIE	NÁZOV
a	
b	
c	
d	
e	
f	
g	
h	
ch	
i	

